

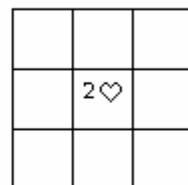
Défi 4  
Logique  
BLOC A

Nom : \_\_\_\_\_



Je combine des indices pour placer un élément dans une grille.

J'utilise le procédé par élimination.



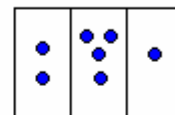
J'utilise le vocabulaire des grilles logiques.

Défi 4  
Numération  
BLOC A

Nom : \_\_\_\_\_



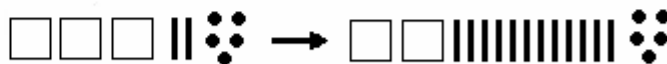
J'associe un nombre à diverses représentations concrètes ( ex. : monnaie, bouliers, etc. )



Je trouve la meilleure représentation d'un nombre dans le but d'effectuer un calcul.



Je lis un nombre représenté dans différents systèmes de numération.



Défi 4  
Jeux de nombres  
BLOC A

Nom : \_\_\_\_\_



J'imagine différentes  
façons d'effectuer un calcul.

$$\begin{array}{r} 400 \\ -147 \\ \hline \end{array} \Rightarrow \begin{array}{r} 399 \\ -146 \\ \hline \end{array}$$



Je prouve l'équivalence  
de deux calculs.



Je lis, écris et  
interprète des phrases  
mathématiques où  
apparaissent des variables.

Défi 4  
Fractions  
BLOC A

Nom : \_\_\_\_\_



J'associe une fraction unitaire  
à une représentation  
concrète ou imagée.



J'ordonne des  
fractions unitaires.



Je lis et écris des fractions  
et les divisions correspondantes.

Défi 4  
Géométrie  
BLOC A

Nom : \_\_\_\_\_



Je reconnais des caractéristiques communes à diverses figures géométriques.



Je classifie des quadrilatères.



Je nomme divers polygones et leurs propriétés.